

Управление образования Городовиковского районного муниципального образования
Республики Калмыкия

Задания школьного этапа Всероссийской олимпиады школьников
по ОБЖ для 10-11 класса

2023-2024 учебный год

Время выполнения – 90 мин

79 балл

ЗАДАНИЯ ТЕОРЕТИЧЕСКОЙ СЕКЦИИ
(максимальная оценка – 60 баллов)

Задание 1

Вы выехали на велосипеде на железнодорожный переезд. За Вами опустился шлагбаум и включился световой и звуковой сигнал. Каковы Ваши действия?

Остановиться на расстоянии 5 м от железнодорожной линии светового.

Оценочные баллы: максимальный – 2 балла; фактический – 2 баллов

Задание 2

Во время сбора ягод в лесу Вы почувствовали запах дыма и поняли, что попали в зону лесного пожара. Ваши действия по обеспечению личной безопасности?

Оценочные баллы: максимальный – 4 балла; фактический – 4 баллов

Задание 3

Вы возвращаетесь домой из школы. Неожиданно на улице возникла перестрелка и начались погромы. Охарактеризуйте свои действия по обеспечению собственной безопасности.

Войти в здание школы, закрыть дверь, спрятаться в укромном месте, вызвать полицию.

Оценочные баллы: максимальный – 7 баллов; фактический – 5 баллов

Задание 4

По системе оповещения РСЧС получен сигнал о приближении урагана. Каковы Ваши действия по обеспечению личной безопасности при угрозе урагана при нахождении дома и во время урагана при нахождении на улице (открытом пространстве)?

Действия при нахождении в здании: заткнуть рот одеждой и руками

Действия на открытом пространстве: убраться в ближайшее здание, укрыться

Оценочные баллы: максимальный – 6 баллов; фактический – 2 баллов

Задание 5

Вы идете за грибами в лес, где водятся гадюки. Какие меры Вы примите, чтобы защититься от встречи с ней?

Избегать попадания вблизи гадюки, носить защитную одежду.

исключено. Регулярно надо ходить на себя перья леопарда, чтобы
люди зли было можно переключить.

Оценочные баллы: максимальный – 4 балла; фактический - 3 баллов

Задание 6

На Ваших глазах человек провалился под лед. Кроме Вас с другом рядом никого нет. Что Вы будете делать, чтобы оказать помощь пострадавшему?

Тряхивать к себе, если можно, одеждой, одеждой на доске,
если не удается, то и руками. Если человек за водой, а вода
глубокая, то и руками. Если пострадавшего необходимо
перенести, то и руками.

Оценочные баллы: максимальный – 3 балла; фактический - 3 баллов

Задание 7.

Получена информация об угрозе затопления территории, на которой Вы живете, в результате гидродинамической аварии и о срочной эвакуации. Каковы Ваши действия?

Необходимо срочно эвакуировать из этой зоны в безопасное место, в том
числе все необходимые вещи, а также эвакуировать из зоны эвакуации
все имущество, так, чтобы избежать риска и травм.

Оценочные баллы: максимальный – 4 балла; фактический - 4 баллов

Задание 8.

Назовите режимы функционирования Единой государственной системы предупреждения и ликвидации чрезвычайных ситуаций (РСЧС) и приведите их характеристику. Ответ оформите в виде таблицы.

№	Название режима функционирования РСЧС	Характеристика режима функционирования РСЧС
1	Режим планового функционирования	Необходимо и контроль за функционированием системы
2	Режим повышенной готовности	Оперативное реагирование на чрезвычайные ситуации
3	Режим чрезвычайной ситуации	Возможности и ликвидации ЧС.

Оценочные баллы: максимальный – 10 баллов; фактический - 5 баллов

Задание 9.

Вставьте пропущенные фразы в текст.

Куликовская битва (1) укажите год 1380 между русским войском во главе с великим князем (2) Дмитрием Ивановичем и войском Золотой Орды под командованием темника (3) Мамыя на Куликовом поле – одна из крупнейших битв, положившая начало освобождению народов Восточной Европы от (4) Монгольского ига. После Куликовской битвы Великий князь получил почетное прозвище (5) Донской.

Оценочные баллы: максимальный – 5 балла; фактический - 5 баллов

Задание 10.

Перед вами изображения наград за воинские и другие отличия и заслуги. Вам необходимо определить название наград и рассказать кто и за какие заслуги может быть ими награжден.



1



2



3



4



5

Ответ оформите в виде таблицы.

№	Название награды	Статус награды
1	Орден Александра Невского	Отличился и героически бодился на поле боя.
2	Орден Отечественной войны	Отличился в боях и героически отстоял рубежи.
3	Орден Отечественной войны	Воевал на фронте и отличился.
4	Орден Александра Невского	За личные заслуги в бою.
5	Медаль "За отвагу"	За отвагу в бою.

Оценочные баллы: максимальный – 10 баллов; фактический - 5 баллов

Задание 11. Что Вы можете рассказать об этом оружии?



- Название оружия.
- Кем и когда разработан.
- Кем используется.
- Калибр.
- Дополнительные сведения.

Самозарядный пистолет, разработан Михаилом Федоровичем Шмагалевым в 1940г. Калибр - 9мм.

Оценочные баллы: максимальный – 5 баллов; фактический - 5 баллов




ОБЩИЙ БАЛЛ ЗА ВЫПОЛНЕНИЕ ЗАДАНИЙ ТЕОРЕТИЧЕСКОЙ СЕКЦИИ

40 ЗАДАНИЯ СЕКЦИИ ТЕСТИРОВАНИЯ

(максимальная оценка – 40 баллов)

Уважаемые участники, при выполнении тестовых заданий, Вам необходимо выбрать *один правильный ответ* и обвести его в кружок.

За правильный ответ начисляется 2 балла. 0 баллов выставляется как за неверный ответ, а также, если участником отмечены несколько ответов (в том числе правильный), или все ответы

№	Тестовые задания	Макс балл	Набранный балл
1.	<p>Повседневное руководство Единой государственной системой предупреждения и ликвидации чрезвычайных ситуаций осуществляет</p> <p>а) комиссия по чрезвычайным ситуациям б) орган местного самоуправления в) Правительство Российской Федерации г) Министерство РФ по делам ГО, ЧС и ликвидации последствий стихийных бедствий</p>	2,0	2
2.	<p>К геологическим чрезвычайным событиям относятся</p> <p>а) оползни, сели, обвалы б) дождевые паводки, заторы и зажоры в) бури, ураганы, сильная жара, туман г) смерчи, магнитные бури.</p>	2,0	2
3.	<p>Точка на поверхности земли, находящаяся под фокусом землетрясения, называется</p> <p>а) метеоцентром б) разломом в) эпицентром г) точкой излома</p>	2,0	2
4.	<p>Единичные или нечастые случаи проявления инфекционной болезни, не связанные между собой единым источником возбудителя инфекций, называют:</p> <p>а) пандемиями; б) эпидемиями; в) эпизоотиями; г) спорадиями.</p>	2,0	2
5.	<p>Скорость распространения сильного низового пожара составляет</p> <p>а) 3 м/сек б) 10 м/сек в) 50 м/сек г) 100 м/сек</p>	2,0	2
6.	<p>Предприятие, из-за аварии на котором может произойти гибель людей, быть нанесен ущерб экономике и окружающей природной среде называется _____ объектом.</p> <p>Ответ: <u>критически важный объект</u></p>	2,0	2
7.	<p>    </p> <p>А Б В</p> <p>Знаки, запрещающие езду на велосипеде:</p> <p>а) А</p>	2,0	

	<input checked="" type="radio"/> б) А и В <input type="radio"/> в) Б и В <input type="radio"/> г) А, Б, В		2
8.	Поражающим фактором химических аварий является <input type="radio"/> а) выделение из облака зараженного воздуха раскаленных частиц, вызывающих ожоги <input checked="" type="radio"/> б) проникновение опасных веществ через органы дыхания и кожу <input type="radio"/> в) интенсивное излучение гамма-лучей, поражающее людей <input type="radio"/> г) лучистый поток энергии	2,0	2
9.	Состояние полного физического, психологического и социального благополучия - это: <input type="radio"/> а) безопасность; <input type="radio"/> б) отсутствие риска; <input checked="" type="radio"/> в) здоровье; <input type="radio"/> г) опасная ситуация.	2,0	2
10.	Понятие «безопасность как состояние защищенности жизненно важных интересов личности, общества и государства» формулируется в: <input checked="" type="radio"/> а) ФЗ «О безопасности»; <input type="radio"/> б) ФЗ «Об обороне»; <input type="radio"/> в) ФЗ «О защите населения и территорий от ЧС природного и техногенного характера»; <input type="radio"/> г) ФЗ «Об охране окружающей среды».	2,0	2
11.	Впервые иприт был синтезирован: <input checked="" type="radio"/> а) Н.Д.Зелинским; <input type="radio"/> б) Д.И.Менделеевым; <input type="radio"/> в) Оппенгеймером; <input type="radio"/> г) М.В. Ломоносовым.	2,0	2
12.	Установите соответствие между интенсивностью землетрясений и их характеристикой в баллах. 1. Опустошительное землетрясение а) 11 баллов 2. Уничтожающее землетрясение б) 9 баллов 3. Катастрофическое землетрясение в) 10 баллов 1 - <u>б</u> ; 2 - <u>в</u> ; 3 - <u>а</u>	2,0	2
13.	Продолжительный сильный ливень со шквальным ветром, скорость которого достигает 15–20 м/с: <input type="radio"/> а) шторм; <input checked="" type="radio"/> б) буря; <input type="radio"/> в) шквал; <input type="radio"/> г) ураган.	2,0	2
14.	Чрезвычайная ситуация (ЧС), масштабы которой не выходят за пределы населенного пункта, называется: <input type="radio"/> а) локальной; <input type="radio"/> б) региональной; <input checked="" type="radio"/> в) местной; <input type="radio"/> г) объектовой.	2,0	2
15.	Механизм передачи инфекции от больного человека к здоровому через кровососущего переносчика называется: <input checked="" type="radio"/> а) трансмиссивным; <input type="radio"/> б) алиментарным; <input type="radio"/> в) раневым (контактным); <input type="radio"/> г) воздушно-капельным.	2,0	2
16.	Война за национальную самоидентификацию групп людей, объединенных различными признаками: общим цветом кожи, религией,	2,0	

	<p>языком, историей, называется:</p> <p>а) этнической; б) локальной; в) гражданской; г) региональной.</p>		2
17.	<p>Поражающими факторами ядерного взрыва являются:</p> <p>а) рентгеновское излучение и высокая температура; б) проникающая радиация и ударная волна; в) токсичные вещества и ударная волна; г) тяжелые массы грунта и угарный газ.</p>	2,0	2
18.	<p>Расширение НАТО на восток, к границам России относится к опасностям для российского социума в _____ сфере:</p> <p>а) политической; б) военной; в) экономической; г) социальной.</p>	2,0	2
19.	<p>К изолирующим противогазам относятся:</p> <p>а) ИП-4, ИП-5; б) ПДФ-Ш, ПДФ-2 Ш; в) КЗД-4, КЗД-6; г) ГП-5, ГП-7.</p>	2,0	2
20.	<p>В какой последовательности следует оказывать помощь пострадавшему, находящемуся в бессознательном состоянии, если у него прекратилось дыхание и сердечная деятельность:</p> <p>а) наружный массаж сердца, б) освобождении дыхательных путей, в) искусственная вентиляция легких</p> <p>Впишите буквы в правильной последовательности</p> <p><u>б</u> <u>а</u> <u>в</u></p>		2
	Общая сумма набранных баллов	40	40