

Управление образования Городовиковского районного муниципального образования

Республика Калмыкия

Задания школьного этапа Всероссийской олимпиады школьников

по ТРУДУ (технологии) (девочки) для 5-6 классов

2024-2025 учебный год

Теоретическое задание

Время выполнения заданий теоретического тура – 60 минут

Максимальная оценка за работу – 20 баллов.

Общая часть

1. (1 балл) На станции «Новокузнецкая» Московского метрополитена можно увидеть семь смальтовых мозаичных панно. Одно из них расположено в вестибюле, а остальные находятся в центральной части зала. Панно были выполнены художником-мозаичистом Владимиром Александровичем Фроловым по эскизам Александра Александровича Дейнеки. Рассмотрите фотографию одного из мозаичных панно.



Определите, как называется это панно.

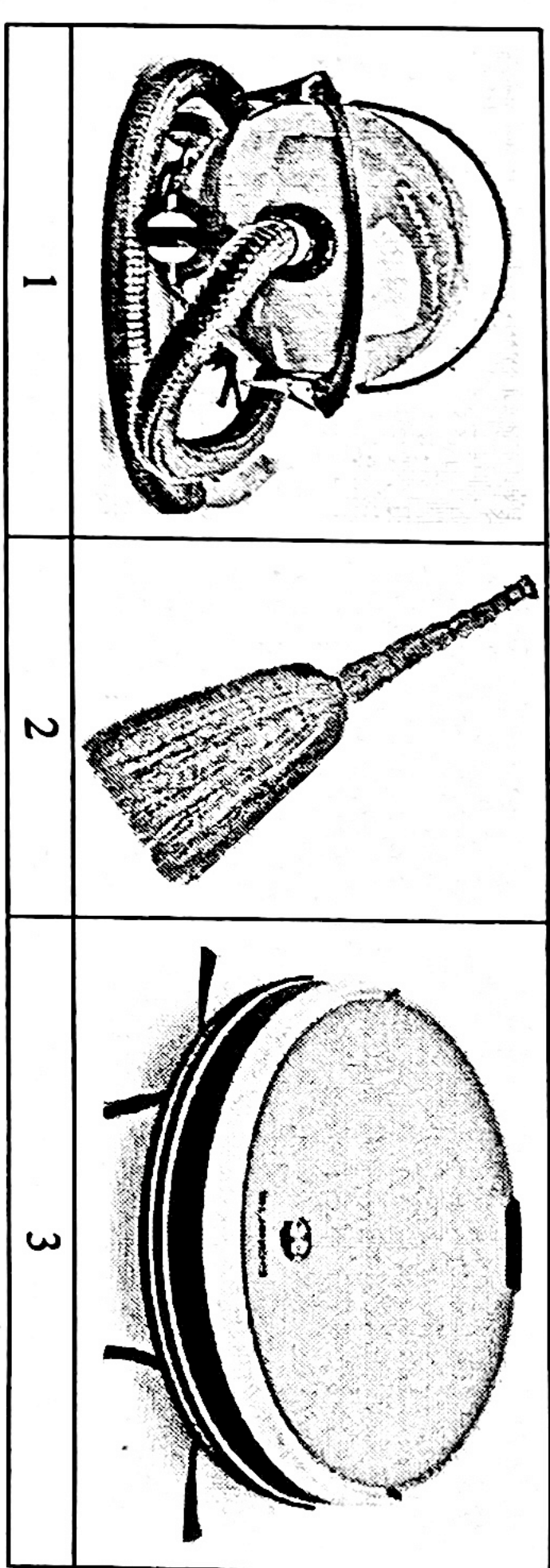
- а) Шахтёры
- б) Авиаторы
- в) Дыжники
- г) Садоводы
- д) Сталевары
- е) Строители
- ж) Машиностроители

Справочная информация

Смá льта – цветное непрозрачное стекло, изготовленное по специальным технологиям выплавки с добавлением оксидов металлов, равно как и кусочки различной формы, полученные из него путём колки или резки.


13

Школьный этап. Труд (технология) 5-6 классы  
Профиль «Культура дома, дизайн и технология». 2024-2025 уч.г.  
2. (1 балл) Рассмотрите предложенные фотографии и расположите данные объекты в порядке их изобретения.



3. (1 балл) При благоустройстве парка было решено посыпать несколько тропинок песком. Длины тропинок равны 5 м, 112 дм, 318 см и 225 см. Определите общую длину тропинок, которые решили посыпать песком. Ответ дайте в сантиметрах.

4. (1 балл) Выберите из предложенных рисунков все те, на которых изображены изделия, выполненные в технике хохломской росписи.



13

13

13


5. (1 балл) По рецепту, чтобы приготовить 1 литр варенья из свежих персиков, нужно взять 1 кг персиков и 1 кг сахара. Даша решила сварить 5 литров варенья по данному рецепту. Пользуясь данными таблицей, определите, какую наименьшую сумму нужно потратить на покупку ингредиентов для варенья. Ответ дайте в рублях.

Наименование продукта	Масса (г)	Цена за одну упаковку (руб.)
Персики в корзинке	450	74
Персики	500	120
Персики	1000	180
Персик плоский	1000	130
Персики с жёлтой мякотью	250	30
Сахар кукуровой	1000	35
Сахар-песок белый	1000	50
Сахар «экстра»	500	120
Сахар светлый тростниковый	5000	205

16  
 Ответ: 825 руб.

Специальная часть

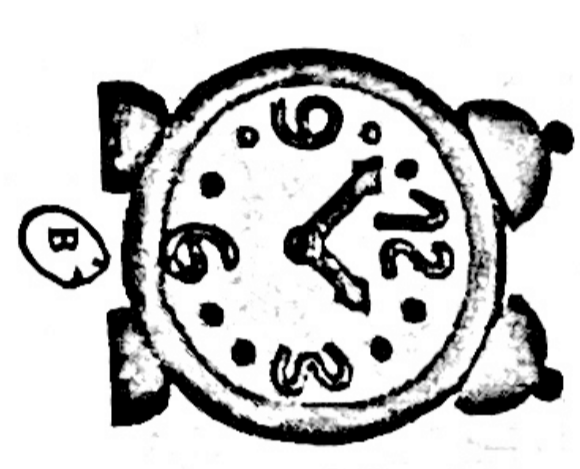
- 15
6. (1 балл) Расположите буквы в правильном порядке, разгадайте зашифрованное слово, получите название рукоделия: *а л к е н . л е к т у а*
7. (1 балл) Какое изделие можно изготовить в технике рукоделия из предыдущего задания?



а



б



в

8-9. (1 балл) Отгадайте загадку.

Не каток, а разглаживает, не паровоз, а пыхтит, трубы нет, а пар идёт.

- 16
- а) чайник
  - б) пароварка
  - в) утюг
  - г) увлажнитель воздуха

9. (1 балл) Для чего используется это приспособление?  
 а) раскрой изделия  
 б) стачивание деталей  
 в) проведение примерки  
 г) влажно-тепловая обработка изделия

10. (1 балл) Отгадайте загадку о пищевом продукте.  
 «Ешь, да пей,  
 Да гостям налей,  
 И коту не пожалей!»  
 Молоко


Из предложенного списка выберите все блюда, для приготовления которых используется этот пищевой продукт.

- 16
- а) харчо
  - б) салат мимоза
  - в) манная каша
  - г) плов
  - д) какао
  - е) молочный коктейль

11. (1 балл) Из предложенного списка выберите продукты растительного происхождения.

- 16
- а) мясо
  - б) дайкон
  - в) яйцо
  - г) масло подсолнечное
  - д) рыба
  - е) картофель

12. (1 балл) Из какой страны происходит напиток, который пьёт девушка, изображённая на картине Константина Маковского?



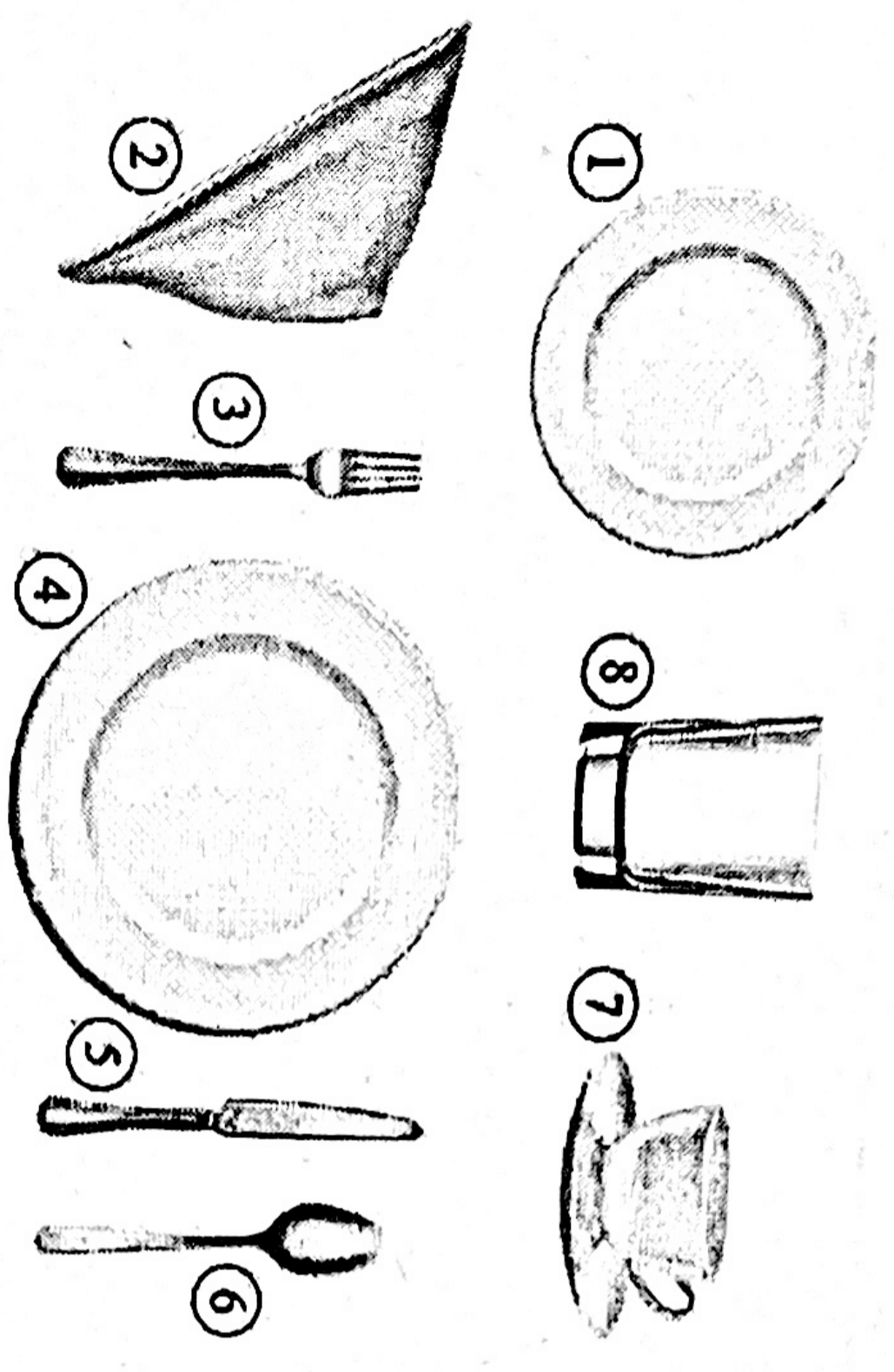
- 16
- а) Италия
  - б) Англия
  - в) Китай
  - г) Япония

13. (1 балл) Что из приведённого списка не является бутербродом?  
 Выберите все правильные ответы.

- + а) пазлы
- б) канале
- в) гамбургер
- + г) карпаччо
- + д) расстегай
- е) чизбургер

DS

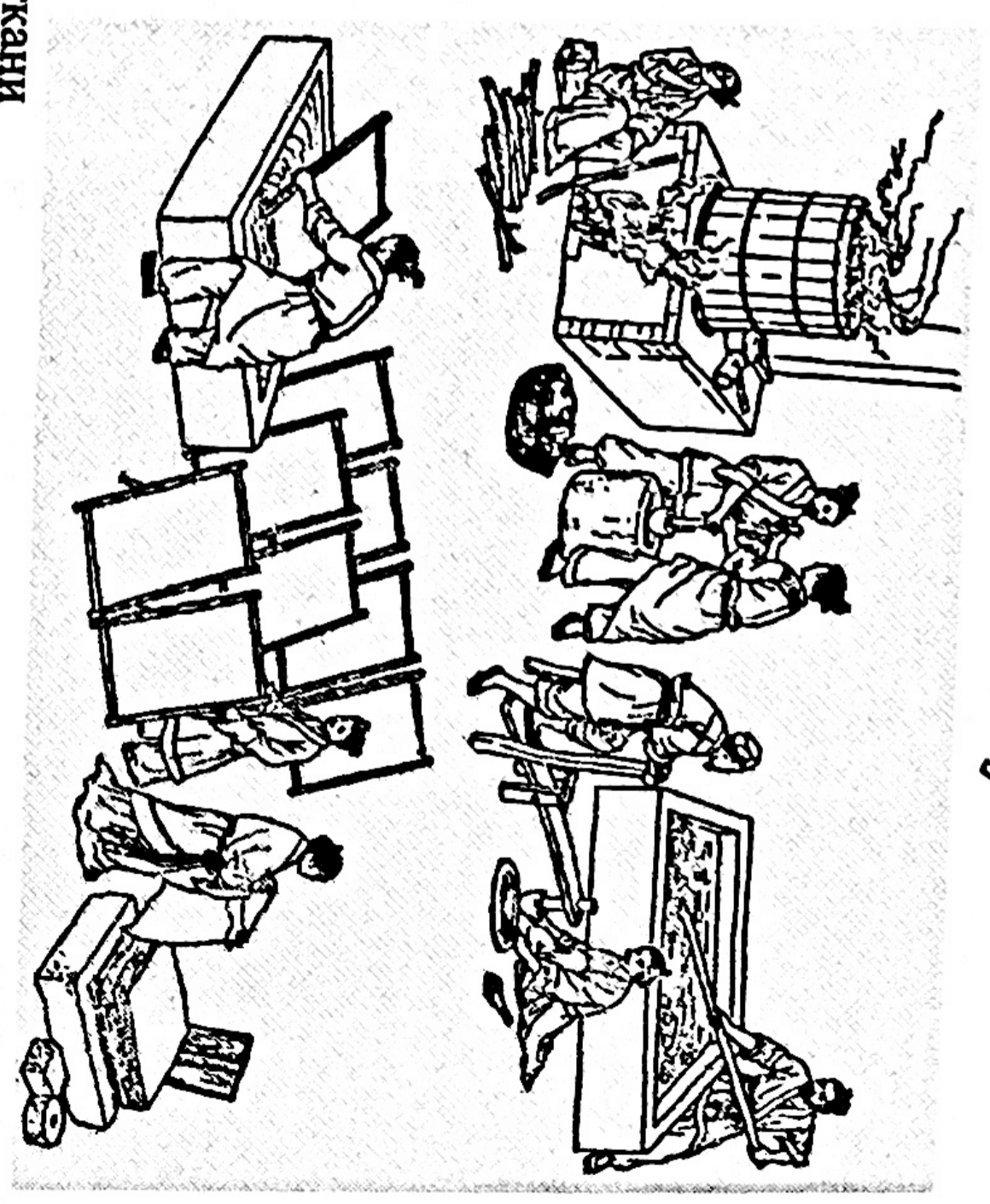
14. (1 балл) На рисунке представлен вариант сервировки завтрака. Определите названия предметов сервировки. Каждому номеру подберите соответствующий ему предмет сервировки.



- Предметы сервировки
- столовый нож
  - столовая вилка
  - столовая ложка
  - пирожковая тарелка
  - чайная пара
  - салфетка
  - стакан
  - тарелка

DS


15. (1 балл) Рассмотрите рисунок. Вставьте пропущенное слово. На рисунке изображён процесс производства бумаги в Китае.



- а) ткань
- б) чай
- в) бумага

DS

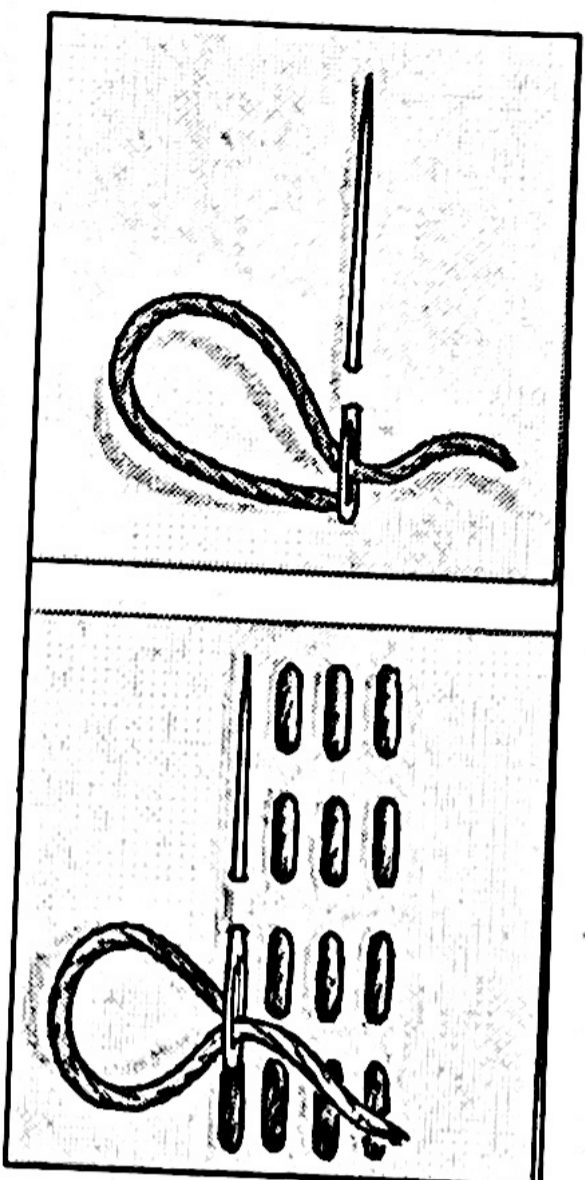
16. (1 балл) Выберите все инструменты и приспособления, с помощью которых можно выполнить вышивку «Сова».



- а) нитки мулине
- б) ткань – канва
- в) булава
- г) палочка деревянные
- д) тесьма
- е) игла
- ж) портновский метр

05

17. (1 балл) Как называется такой стежок?



- а) крестообразный
- б) прямой
- в) косой
- г) петельный

05

18. (1 балл) Отгадайте загадку, получите название пищевого продукта  
«Тем вкусней он будет, братцы,  
Чем в нём больше круглых дыр.  
Любит в масле покататься  
Этот вкусный жёлтый сыр»

7

18

19. (1 балл) К какой группе пищевых продуктов относится отгадка загадки из вопроса № 18?

Выберите один правильный ответ.

бобовые	крупы	молочные	кондитерские
А	Б	<input checked="" type="radio"/> В	Г

18

20. (1 балл) В рецепт каких блюд входит пищевой продукт из вопроса № 18?

Выберите все правильные ответы.

хачапури	пицца	сырник	гуляш
<input checked="" type="checkbox"/> А	<input checked="" type="checkbox"/> Б	В	Г

18