

АКИМОВА Крестина Александровна, 6 класс

155

Управление образования Городовиковского районного муниципального образования
Республики Калмыкия
Задания школьного этапа Всероссийской олимпиады школьников
по ТРУДУ (технологии) (Левушки) для 5-6 классов
2024-2025 учебный год

Школьный этап. Труд (технология) 5-6 классы
Профиль «Культура дома, дизайн и технология». 2024-2025 уч.г.

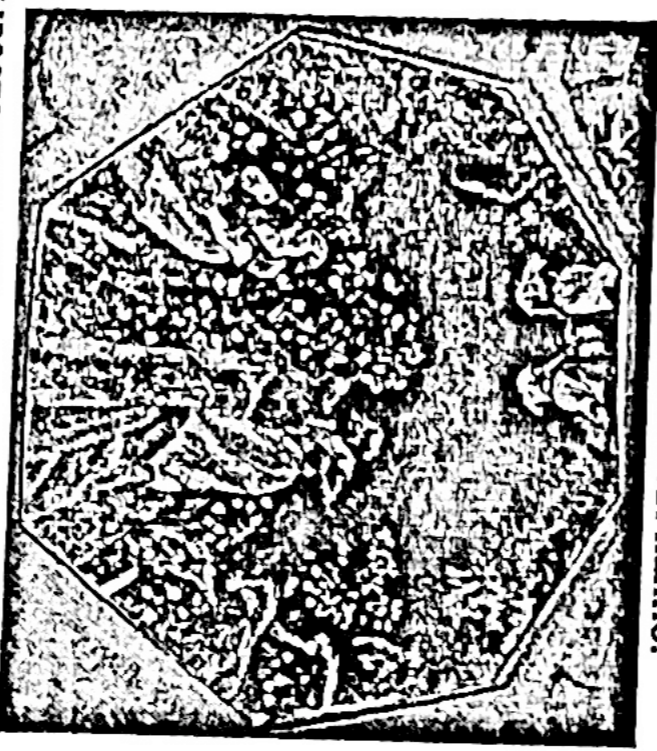
Теоретическое задание

Время выполнения заданий теоретического тура – 60 минут

Максимальная оценка за работу – 20 баллов.

Общая часть

1. (1 балл) На станции «Новокузнецкая» Московского метрополитена можно увидеть семь смальтовых мозаичных панно. Одно из них расположено в вестибюле, а остальные находятся в центральной части зала. Панно были выполнены художником-мозаичистом Владимиром Александровичем Фроловым по эскизам Александра Александровича Дейнеки. Рассмотрите фотографию одного из мозаичных панно.



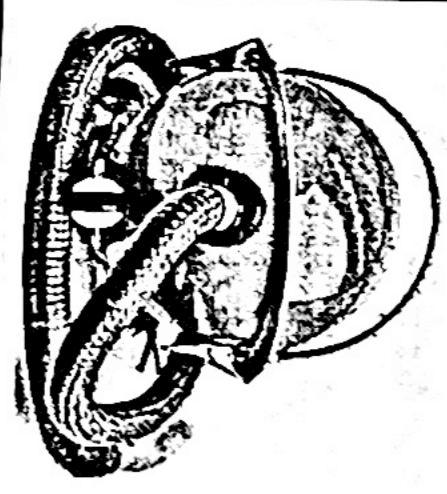


Определите, как называется это панно.

- а) Шахтёры
- б) Авиаторы
- в) Лыжники
- г) Садоводы
- д) Сталевары
- е) Строители
- ж) Машиностроители

Справочная информация
Смá льта – цветное непрозрачное стекло, изготовленное по специальным технологиям выплавки с добавлением оксидов металлов, равно как и кусочки различной формы, полученные из него путём колки или резки.


15

2. (1 балл) Рассмотрите предложенные фотографии и расположите данные объекты в порядке их изобретения.

		
1	2	3

3. (1 балл) При благоустройстве парка было решено посыпать несколько тропинок песком. Длины тропинок равны 5 м, 112 дм, 318 см и 225 см. Определите общую длину тропинок, которые решили посыпать песком. Ответ дайте в сантиметрах. 1163 см

4. (1 балл) Выберите из предложенных рисунков все те, на которых изображены изделия, выполненные в технике хохломской росписи.



15

5. (1 балл) По рецепту, чтобы приготовить 1 литр варенья из свежих персиков, нужно взять 1 кг персиков и 1 кг сахара. Даша решила сварить 5 литров варенья по данному рецепту. Пользуясь данными таблицей, определите, какую наименьшую сумму нужно потратить на покупку ингредиентов для варенья. Ответ дайте в рублях.

Наименование продукта	Масса (г)	Цена за одну упаковку (руб.)
Персики в корзинке	450	74
Персики	500	120
Персик плоский	1000	180
Персики с жёлтой мякотью	1000	130
Сахар кусковой	250	30
Сахар-песок белый	1000	35
Сахар «экстра»	1000	50
Сахар светлый тростниковый	500	120
Сахар-песок	5000	205

Даша 825


Специальная часть

6. (1 балл) Расположите буквы в правильном порядке, разгадайте зашифрованное слово, получите название рукоделия: *а л к е н. с е м л к а*


7. (1 балл) Какое изделие можно изготовить в технике рукоделия из предыдущего задания?



а



б



в

8-9.
8. (1 балл) Отгадайте загадку.

Не коток, а разглаживает, не паровоз, а пыхтит, трубы нет, а пар идёт.

- а) чайник
- б) пароварка
- в) утюг
- г) увлажнитель воздуха

9. (1 балл) Для чего используется это приспособление?

- а) раскрой изделия
- б) стачивание деталей изделий
- в) проведение примерки
- г) лажно-тепловая обработка изделия

10. (1 балл) Отгадайте загадку о пищевом продукте.

«Ешь, да пей,
Да гостям налей,
И коту не пожалей!» *шолохо*


Из предложенного списка выберите все блюда, для приготовления которых используется этот пищевой продукт.

- а) харчо
- б) салат мимоза
- в) манная каша
- г) плов
- д) какао
- е) молочный коктейль

11. (1 балл) Из предложенного списка выберите продукты растительного происхождения.

- а) мясо
- б) дайкон
- в) яйцо
- г) масло подсолнечное
- д) рыба
- е) картофель

12. (1 балл) Из какой страны происходит напиток, который пьёт девушка, изображённая на картине Константина Маковского?




- а) Италия
- б) Англия
- в) Китай
- г) Япония

14. (1 балл) Что из приведённого списка не является бутербродом?
Выберите все правильные ответы.

- а) пазлы
- б) канале
- в) гамбургер
- г) карпаччо
- д) расстегай
- е) чизбургер

0б

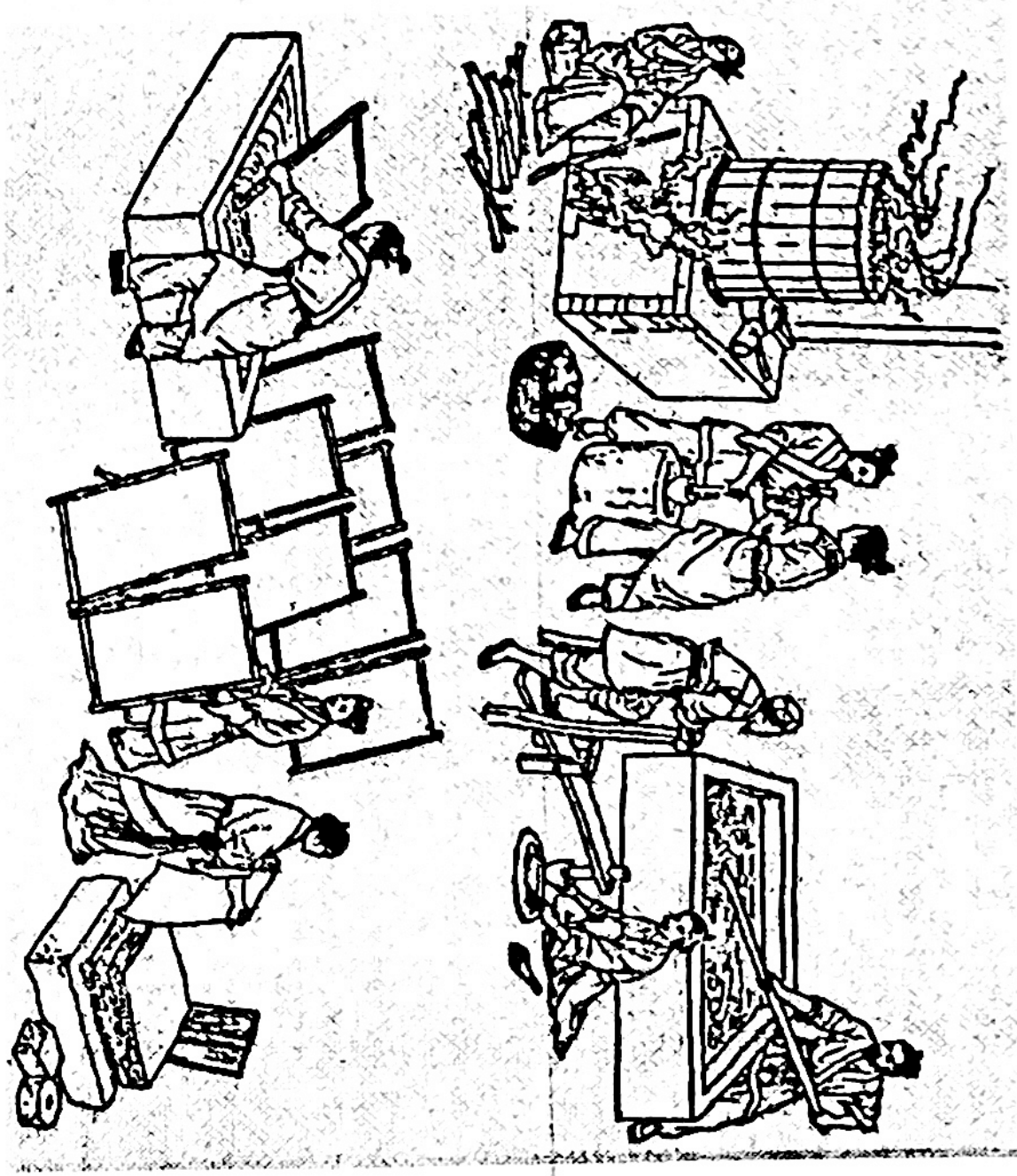
14. (1 балл) На рисунке представлен вариант сервировки завтрака. Определите названия предметов сервировки. Каждому номеру подберите соответствующий ему предмет сервировки.



0б

- Предметы сервировки
- столовый нож
 - столовая вилка
 - столовая ложка
 - пирожковая тарелка
 - чайная пара
 - салфетка
 - стакан
 - тарелка


15. (1 балл) Рассмотрите рисунок. Вставьте пропущенное слово.
На рисунке изображён процесс производства бумаги в Китае.



- а) ткани
- б) чая
- в) бумаги

1б

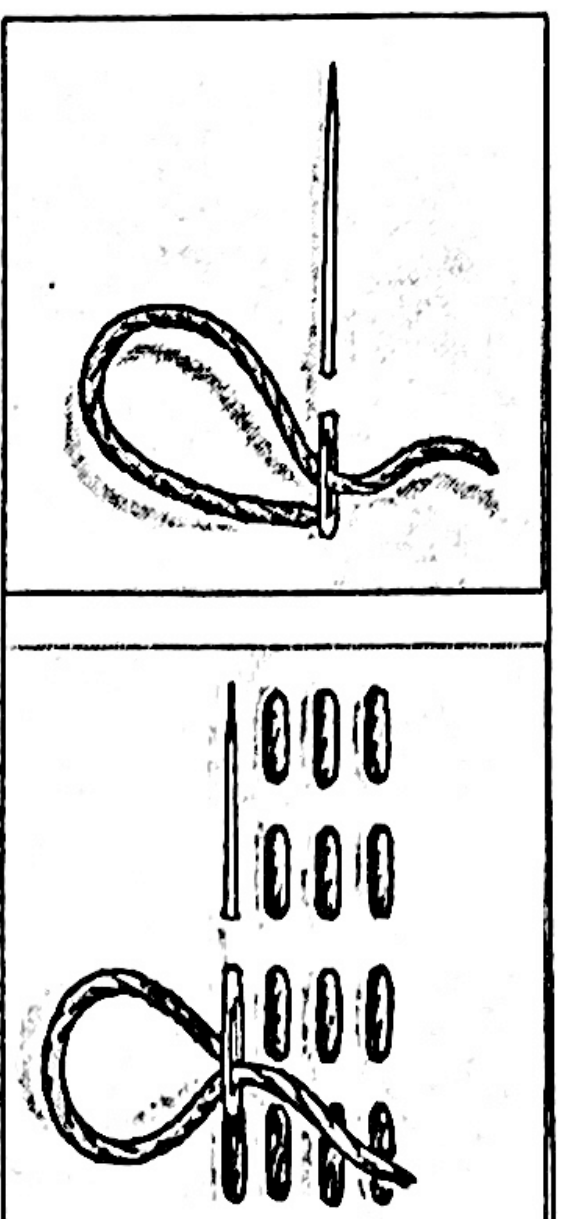
16. (1 балл) Выберите все инструменты и приспособления, с помощью которых можно выполнить вышивку «Сова».



- а) нитки мулине
- б) ткань – канва
- в) булавка
- г) палочка деревянная
- д) тесьма
- е) игла
- ж) портновский мел

1б

17. (1 балл) Как называется такой стежок?



- а) крестообразный
- б) прямой
- в) косой
- г) петельный

1б

18. (1 балл) Отгадайте загадку, получите название пищевого продукта

«Тем вкусней он будет, братцы,
 Чем в нём больше круглых дыр.
 Любит в масле покататься
 Этот вкусный жёлтый.»

1б

7

19. (1 балл) К какой группе пищевых продуктов относится отгадка загадки из вопроса № 18?

1б

Выберите один правильный ответ.

бобовые	крупы	молочные	кондитерские
А	Б	<input checked="" type="radio"/> В	Г

20. (1 балл) В рецепт каких блюд входит пищевой продукт из вопроса № 18?

0б

Выберите все правильные ответы.

<input checked="" type="checkbox"/> хачапури	пицца	сырник	гуляш
А	Б	В	Г