

БЕРЕЖНАЯ КАТЯ, 6 КЛАСС

157

Управление образования Городовиковского районного муниципального образования
Республики Калмыкия
Задания школьного этапа Всероссийской олимпиады школьников
по ТРУДУ (технологии) (девушки) для 5-6 классов
2024-2025 учебный год


Теоретическое задание

Время выполнения заданий теоретического тура – 60 минут

Максимальная оценка за работу – 20 баллов.

Общая часть

1. (1 балл) На станции «Новокузнецкая» Московского метрополитена можно увидеть семь смальтовых мозаичных панно. Одно из них расположено в вестибюле, а остальные находятся в центральной части зала. Панно были выполнены художником-мозаичистом Владимиром Александровичем Фроловым по эскизам Александра Александровича Дейнеки. Рассмотрите фотографию одного из мозаичных панно.



Определите, как называется это панно.

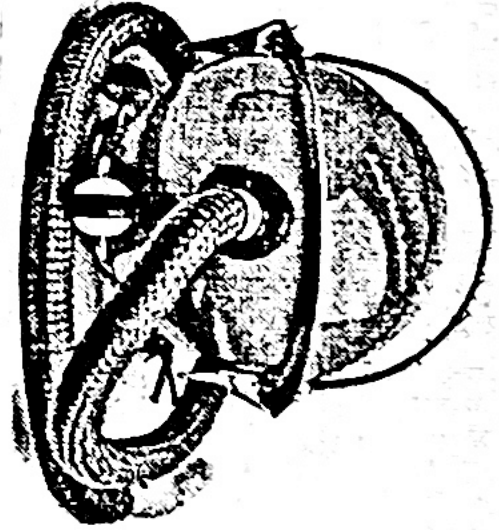
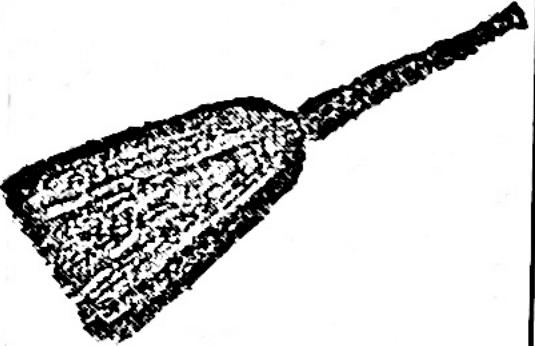
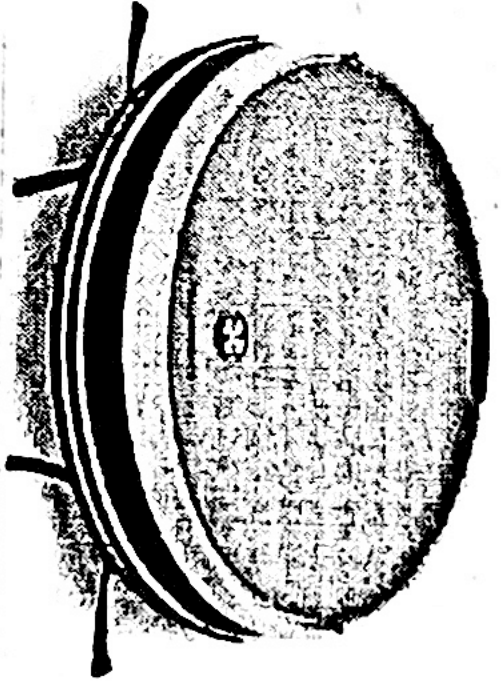
- а) Шахтёры
- б) Авиаторы
- в) Лыжники
- г) Садоводы
- д) Сталевары
- е) Строители
- ж) Машиностроители

Справочная информация

Смёт льта – цветное непрозрачное стекло, изготовленное по специальным технологиям выплавки с добавлением оксидов металлов, равно как и кусочки различной формы, полученные из него путём колки или резки.


16

2. (1 балл) Рассмотрите предложенные фотографии и расположите данные объекты в порядке их изготовления.

		
1	2	3

3. (1 балл) При благоустройстве парка было решено посыпать несколько тропинок песком. Длины тропинок равны 5 м, 112 дм, 318 см и 225 см. Определите общую длину тропинок, которые решили посыпать песком. Ответ дайте в сантиметрах. 1859

4. (1 балл) Выберите из предложенных рисунков все те, на которых изображены изделия, выполненные в технике холможской росписи.



16

06

16

5. (1 балл) По рецепту, чтобы приготовить 1 литр варенья из свежих персиков, нужно взять 1 кг персиков и 1 кг сахара. Даша решила сварить 5 литров варенья по данному рецепту. Пользуясь данными таблицей, определите, какую наименьшую сумму нужно потратить на покупку ингредиентов для варенья. Ответ дайте в рублях. **802**

Наименование продукта	Масса (г)	Цена за одну упаковку (руб.)
Персики в корзинке	450	74
Персики	500	120
Персик плоский	1000	180
Персики с жёлтой мякотью	1000	130
Сахар кукуровой	250	30
Сахар-песок белый	1000	35
Сахар «экстра»	1000	50
Сахар светлый тростниковый	500	120
Сахар-песок	5000	205

Специальная часть

6. (1 балл) Расположите буквы в правильном порядке, разгадайте зашифрованное слово, получите название рукоделия: *а л к е н. ш е м л а*


7. (1 балл) Какое изделие можно изготовить в технике рукоделия из предыдущего задания?



а



б



в

8-9.
8. (1 балл) Отгадайте загадку.

Не коток, а разглаживает, не паровоз, а пытит, трубы нет, а пар идёт.
а) чайник
б) пароварка
в) утюг
г) увлажнитель воздуха

9. (1 балл) Для чего используется это приспособление?

- а) раскрой изделия
- б) стачивание деталей изделий
- в) проведение примерки
- г) влажно-тепловая обработка изделия

10. (1 балл) Отгадайте загадку о пищевом продукте.

«Ешь, да пей,
Да гостям налей,
И коту не пожалей!»

МОЛОКО


Из предложенного списка выберите все блюда, для приготовления которых используется этот пищевой продукт.

- а) харчо
- б) салат мимоза
- в) манная каша
- г) плов
- д) какао
- е) молочный коктейль

11. (1 балл) Из предложенного списка выберите продукты растительного происхождения.

- а) мясо
- б) дайкон
- в) яйцо
- г) масло подсолнечное
- д) рыба
- е) картофель

12. (1 балл) Из какой страны происходит напиток, который пьёт девушка, изображённая на картине Константина Маковского?



- а) Италия
- б) Англия
- в) Китай
- г) Япония


Школьный этап. Труд (технология) 5-6 классы
 Профиль «Культура дома, дизайн и технология». 2024-2025 уч.г.

13. (1 балл) Что из приведённого списка не является бутербродом?
 Выберите все правильные ответы.

а) пазля
 б) канале
 в) гамбургер
 г) карпаччо
 д) расстегай
 е) чизбургер

06

14. (1 балл) На рисунке представлен вариант сервировки завтрака. Определите названия предметов сервировки. Каждому номеру подберите соответствующий ему предмет сервировки.

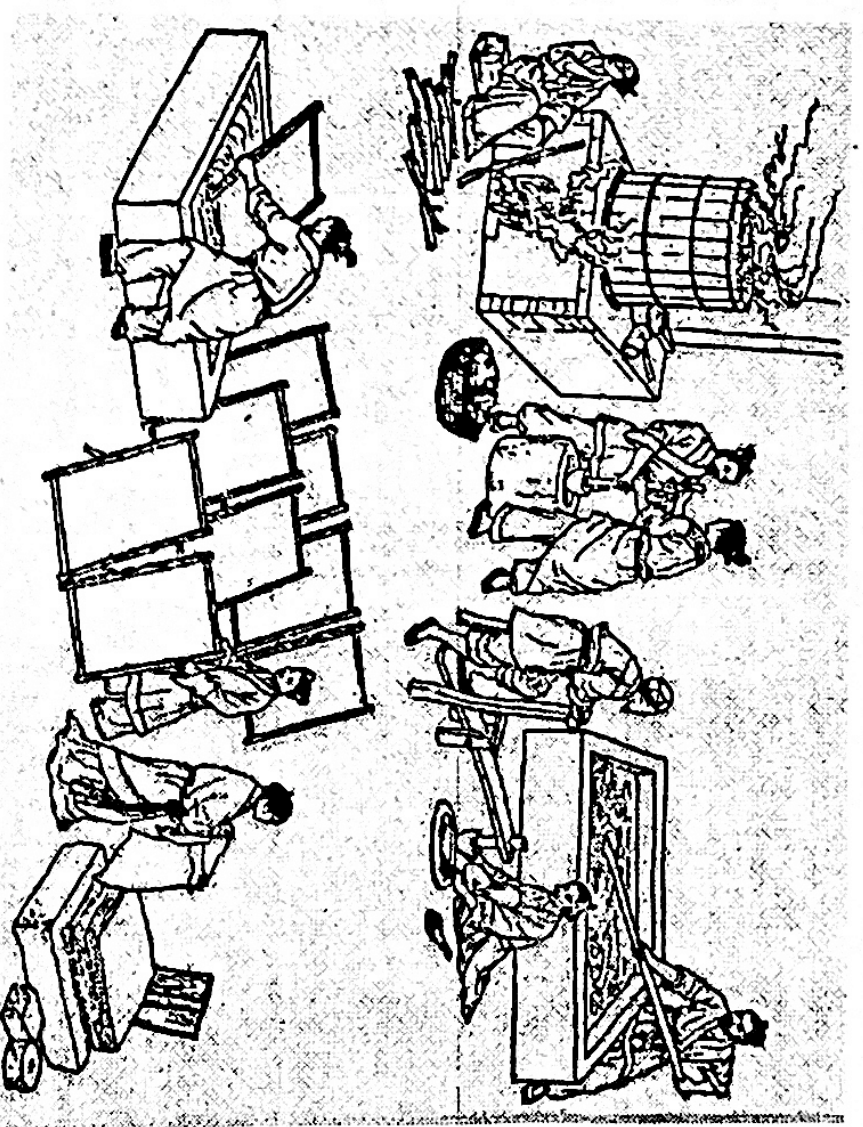


- Предметы сервировки
- столовый нож
 - столовая вилка
 - столовая ложка
 - пирожковая тарелка
 - чайная пара
 - салфетка
 - стакан
 - тарелка

06

Школьный этап. Труд (технология) 5-6 классы
 Профиль «Культура дома, дизайн и технология». 2024-2025 уч.г.


15. (1 балл) Рассмотрите рисунок. Вставьте пропущенное слово. На рисунке изображён процесс производства БУМАГИ в Китае.



- а) ткани
- б) чай
- в) бумага

16

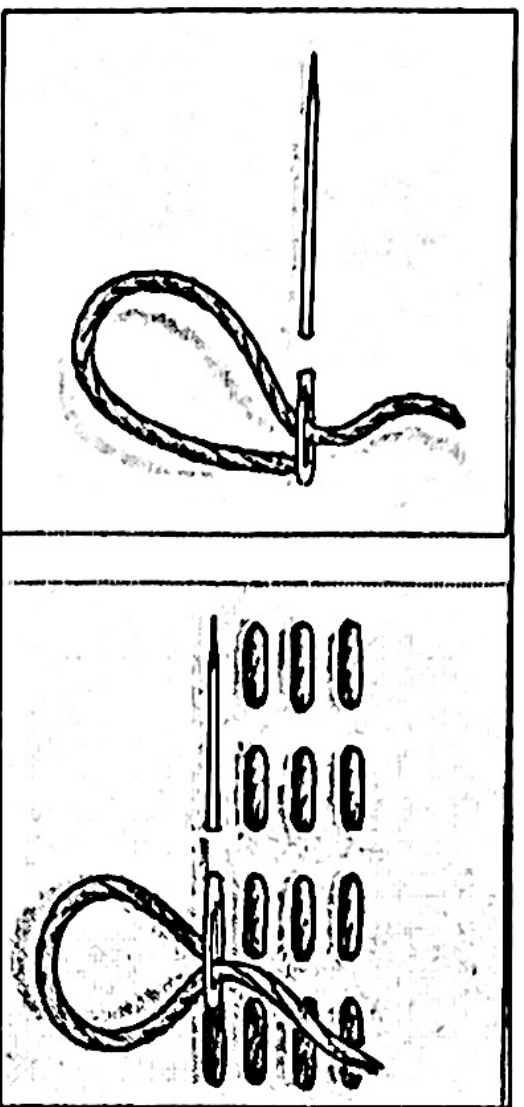
16. (1 балл) Выберите все инструменты и приспособления, с помощью которых можно выполнить вышивку «Сова».



- а) нитки мулине
- б) ткань – канва
- в) булавка
- г) пальца деревянные
- д) тесьма
- е) игла
- ж) портновский мел

05

17. (1 балл) Как называется такой стежок?



18

- а) крестообразный
- б) прямой
- в) косой
- г) петельный

18. (1 балл) Отгадайте загадку, получите название пищевого продукта

«Тем вкусней он будет, братцы,
 Чем в нём больше круглых дыр.
 Любит в масле покататься
 Этот вкусный жёлтый ...»

Сыр

18

19. (1 балл) К какой группе пищевых продуктов относится отгадка загадки из вопроса № 18?

18

Выберите один правильный ответ.

Бобовые	крупы	молочные	кондитерские
А	Б	<input checked="" type="radio"/> В	Г

20. (1 балл) В рецепт каких блюд входит пищевой продукт из вопроса № 18?

18

Выберите все правильные ответы.

хачапури	пицца	сырник	гуляш
<input checked="" type="checkbox"/> А	<input checked="" type="checkbox"/> Б	В	Г