

Формально Ач, Жу

Управление образования Городовиковского районного муниципального образования

Республики Калмыкия
Задания школьного этапа Всероссийской олимпиады школьников
по истории, 7 класс
2024-2025 учебный год

Время выполнения 90 минут.
Максимальный балл – 90.

1. Верны ли следующие утверждения («да» - «нет»)? Ответы внесите в таблицу.
(По 1 баллу за верное утверждение. Максимальный балл за задание -10)

- 1.1 Тверь была присоединена к Москве при Василии III.
- 1.2 Князь Святослав крестил Русь.
- 1.3 Ярослав Мудрый принял Судебник.
- 1.4 В Куликовской битве русские войска одержали победу над половцами.
- 1.5 Иван III успешно воевал с Мамаем.
- 1.6 Владимир Мономах был киевским князем.
- 1.7 Норманская теория возникла в IX веке.
- 1.8 Полудье – это размеры дани, определенные при княгине Ольге.
- 1.9 Киев находится на реке Волге.
- 1.10 Ильменские словене занимали территории вокруг Новгорода.

Ответ:

1.1	1.2	1.3	1.4	1.5	1.6	1.7	1.8	1.9	1.10
нет	нет	да	нет	да	нет	нет	нет	нет	да
+	+	+	+	+	+	+	+	+	+

2. Что с исторической точки зрения объединяет перечисленные в ряду элементы? Дайте максимально точный ответ.

(По 3 балла за каждый верный ответ. Максимальный балл за задание - 9).

- 2.1 Ладога, Новгород, Смоленск, Киев.
- 2.2 Казанское ханство, Астраханское ханство, Крамское ханство, Сибирское ханство.
- 2.3 Поляне, древляне, дровичи, радимичи. Ответ:

2.1. Это все славянские племена на пути от Балтики к Черному морю.
2.2. Это славянские племена в составе Рюриковичей.
2.3. Это все славянские племена.

3. Расположите в хронологической последовательности.

(10 баллов за полностью верную последовательность, 5 баллов за последовательность с одной ошибкой (т.е. верная последовательность восстанавливается

путем перестановки любых двух символов), 0 баллов, если допущено более 1 ошибки).
Максимальный балл за задание -10.

- A) Походы князя Олега на Царьград.
- B) Установление княгиней Ольгой погостов и уроков.
- B) Войны Святослава с Византией.
- Г) Стояние на реке Угре.
- Д) Разгром печенегов Ярославом Мудрым.
- E) Раздел православной и католической церкви.
- Ж) Судебник Ивана III.
- З) Начало крестовых походов.

- И) Феодальная война между потомками Дмитрия Донского.
- К) Захват Константинополя Османской империи.

Ответ:

1	2	3	4	5	6	7	8	9	10
A	B	B	A	E	З	К	Г	Ж	
+	+	+	+	+	+	+	+	+	+

В заданиях 4.1. - 4.3. выберите один верный ответ и внесите в таблицу.

(По 3 балла за верный ответ. Максимальный балл за задание - 9).

4.1. В каком веке произошли события, описываемые в документе.
В год 6473. Пошел Святослав на хазар. Услышав же, хазары вышли навстречу во главе со своим князем Каганом и сошлись биться, и в битве одолел Святослав хазар, и столицу их и Белую Вежу взял. И победил ясов и касогов.

В год 6474. Витичей победил Святослав и дань на них возложил.
В год 6475. Пошел Святослав на Дунай на болгар. И бился обе стороны, и одолел Святослав болгар, и взял городов их 80 по Дунаю, и сел княжить там в Переяславце, беря дань с греков.»

- 1) В IX веке;
- 2) В X веке;
- 3) В XII веке;
- 4) В XIII веке.

4.2. О каком событии идет речь в отрывке?

против ордынцев выступить: ведь он знал, что Сергий – муж добродетельный и даром пророческим обладает. Святой же, когда услышал об этом от великого князя, благословил его,

молитвой вооружил и сказал: «Следует тебе, господин, заботиться о порученном тебе Богом славном христианском стаде. Иди против [врагов], и, если Бог поможет тебе, ты победишь и невредимым в своё отечество вернёшься».

- 1) Куликовская битва;
- 2) Стояние на реке Угре;
- 3) Битва на реке Воже;
- 4) Битва на реке Сити.

4.3. О каком городе идет речь в отрывке?

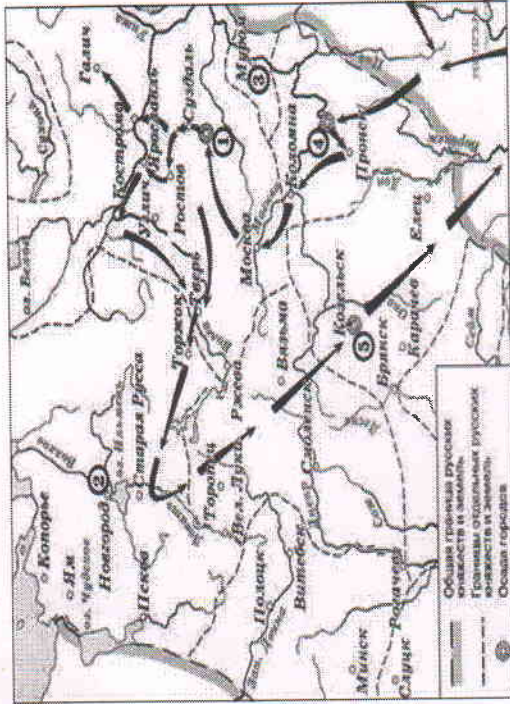
«...» — удивительно большой город; он расположен на большой равнине, болот окружённой большими лесами, и находится в низкой местности среди вод и. Посреди упомянутого города течёт большая река по имени Волхов. Город обнесён плохими стенами, сделанными из плетня земли, тогда как башни каменные. Этот город независим и имеет общинное правление. Здесь есть епископ, который представляет как бы их начальника. И содержат они, равно как и все прочие русские в Руси, которая очень велика, христианскую религию по своему обряду, такому же, как и у греков. Они имеют замок, расположенный на берегу упомянутой реки, и в нём соборная церковь святой Софии, которую они почитают, и там живёт их упомянутый епископ.

- 1) Киев;
- 2) Новгород;
- 3) Смоленск;
- 4) Ярославль.

Ответ:

4.1	4.2	4.3
2	1	2

5. Рассмотрите схему и ответьте на вопросы и выполните задания.
(По 2 балла за каждый вопрос. Максимальный балл за задание – 12).



5.1. О каком событии идет речь на схеме? (2 балла)

Ответ: Русско-шведские войны +

5.2. Когда произошло событие, изображенное на схеме? (2 балла при правильном указании числа, месяца, года, 1 балл, если правильно указан год)

Ответ: 8 сентября 1380г +

5.3. Назовите военоначальника, который руководил походом, который изображен на схеме? (2 балла)

Ответ: Кн. Даниил +

5.4. Как был прозван город Козельск войском, походы которого изображены на схеме? (2 балла).

Ответ: Земля Уграми +

5.5. От кого защищал Александр Невский северо-западную Русь, когда Северо-восточная Русь защищалась от войск полководца, чьи походы изображены на схеме?

(2 балла, если названы два и более противника Александра Невского, 1 балл, если правильно назван один из противников Александра Невского).

Ответ: Шведы, немцы, датчане +

5.6. Какие последствия для русских земель имело событие, изображенное на схеме? (2 балла, если названы 2 и более последствия, 1 балл если названо одно последствие).

Ответ: *Дорожные земельные подворья княжеские дворы. Зависимость от дара*

6. Определите пропущенные в тексте названия, слова, имена, даты, обозначенные порядковыми номерами. При необходимости при порядковых номерах даются пояснения о характере требуемой вставки.

Вставьте вместо пропусков буквы соответствующих слов (дат) из предложенного списка. ОБРАТИТЕ ВНИМАНИЕ: в списке слов есть и такие, которые в тексте встречаться не должны! Ответ внесите в таблицу. (По 4 балла за верный выбор. Максимальный балл за задание – 20).


«...Пришла весть к великому князю, что царь (1) идет в полном сборе, со своей ордой и царевичами, с уланами и князьями, да еще в соглашении с королем (2) — ибо король и направил его против великого князя, желая сокрушить христианство. Князь великий пошел на (3) и стал у (3), а сына своего великого князя Ивана поставил у Серпухова, а князя Андрея Васильевича Меньшого в Тарусе, а прочих князей и воевод в иных местах, а других — по берегу. Царь (1), услышав, что князь великий стоит у (4) на берегу со всеми силами, пошел к Литовской земле, обходя реку (4) и ожидая на помощь себе короля или его силы, и опытные проводники вели его к реке (5) на броды. Князь же великий сына своего, и брата, и воевод послал на (5) со всеми силами, и, придя, они стали на (5) и заняли броды и перевозы. А сам князь великий поехал из Коломны на Москву к церквам Спаса и Пречистой Богородицы и к святым чудотворцам, прося помощи и защиты православному христианству, желая обуздать и обдумать это с отцом своим митрополитом Геронтием, и со своей матерью великой княгиней Марфой, и своим дядей Михаилом Андреевичем, и со своим духовным отцом архиепископом ростовским Вассианом, и со своими боярами — ибо все они тогда пребывали в осаде в Москве. И молили его великим молением, чтобы он крепко стоял за право-славное христианство против басурман».

А. Казимир	В. Мамай	Д. Ока	Ж. Угра	И. Днепр
Б. Коломна	Г. Ахмат	Е. Ольгерд	З. Волга	К. Москва

Ответ:

1	2	3	4	5
Г	А	Б	Ж	К

7. Перед вами изображения знаменитых памятников архитектуры. Заполните таблицу: во вторую колонку таблицы запишите название изображенного памятника, в третью запишите название государства, на территории которого этот памятник сегодня располагается. (По одному баллу за каждый верно указанный памятник и по одному баллу за каждую верно указанную страну. Максимальный балл за задание – 10).




А.



Б.


А	Ураховая палата	Домья	+
Б	Корденок	Труцше	+
В	Кашея	Чаше	+
Г	Муромская Успенка	Ештит	+
Д	Успенский собор	Домья	+



В.



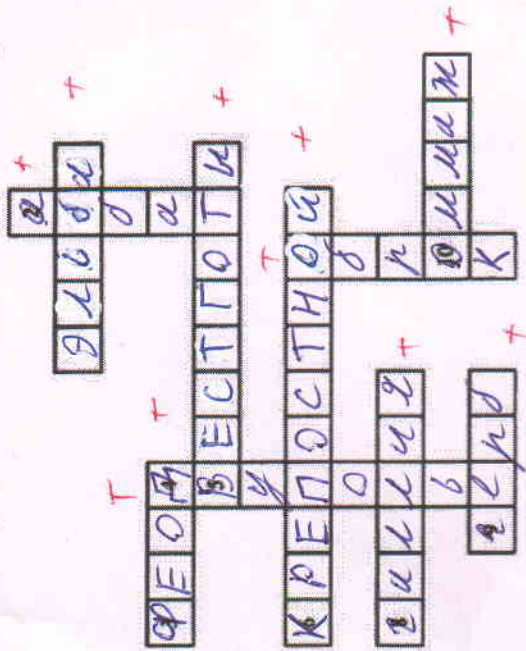
Г.



Д.

8. Решите кроссворд.

(По 1 баллу за верный ответ. Максимальный балл за задание -10)



105

По горизонтали:

1. Река, в бассейне которой жили древние германцы. 3. Земельное владение, дававшееся за службу. 5. Германское племя, обосновавшееся в Испании в результате Великого переселения народов. 6. Крестьянин, попавший в поземельную и личную зависимость от феодала. 8. Римская провинция, завоеванная франками. 9. Отличительный знак рода феодала. 10. Обряд принесения вассальной присяги.

По вертикали:

2. Настоятель монастыря. 4. Система земледелия, позволявшая повысить урожай. 7. Платежи крестьян феодалу продуктами и изделиями своего хозяйства.